

**CERIFICAT D'APTITUDE PROFESSIONNELLE MARITIME  
DE CONCHYLICULTURE**

**UP3 PROCESSUS DE PRODUCTION ET REGLEMENTATION**

**(Durée : 1 heure 30)**

---

**1<sup>re</sup> QUESTION (valeur = 5)**

**Approvisionnement en naissain.**

1. Identifier les collecteurs représentés et nommer le bivalve capté par chacun d'eux, en complétant le tableau en ANNEXE 1 (à rendre avec la copie).
2. Citer trois possibilités d'approvisionnement en juvéniles autre que le captage naturel en ostréiculture.
3. Nommer le type d'entreprise pouvant fournir du naissain d'huîtres triploïdes.

**2<sup>e</sup> QUESTION (valeur = 3)**

**Indice de remplissage.**

1. Répondre au questionnaire de l'ANNEXE 2 (à rendre avec la copie), en cochant la bonne réponse.
2. Compléter le tableau de l'ANNEXE 2 (à rendre avec la copie) :
  - donner les valeurs limites des indices de remplissage ;
  - donner les deux appellations correspondantes.

**3<sup>e</sup> QUESTION (valeur = 6)**

**Techniques de production ostréicoles.**

Compléter le tableau de l'ANNEXE 3 (à rendre avec la copie).

Pour chacune des actions :

- décrire rapidement l'action
- expliquer son intérêt.

***Tournez la page SVP***

#### 4<sup>e</sup> QUESTION (valeur = 4)

##### **La mytiliculture.**

1. Identifier les matériels utilisés en mytiliculture et donner leur rôle en complétant le tableau de l'ANNEXE 4 (à rendre avec la copie).
2. Nommer une autre technique de production mytilicole.
3. Citer une région où cette technique se pratique.

#### 5<sup>e</sup> QUESTION (valeur = 2)

##### **Règlementation.**

Donner la signification des sigles suivants :

CNC  
ENIM  
REPHY  
DPM

*Nota :*




*1. Aucun document n'est autorisé.*

*2. Délits de fraude : "Tout candidat pris en flagrant délit de fraude ou convaincu de tentative de fraude sera immédiatement exclu de la salle d'examen et risque l'exclusion temporaire ou définitive de toute école et d'une ou plusieurs sessions d'examens sans préjudice de l'application des sanctions prévue"*

NUMERO DE PLACE :

NE RIEN INSCRIRE AU DESSUS DE CETTE LIGNE

**ANNEXE 1 (A rendre avec la copie)**

<p><b>PHOTO</b></p>			
<p><b>NOM DU COLLECTEUR</b></p>			
<p><b>NOM DU BIVALVE COLLECTE</b></p>			

NUMERO DE PLACE :

NE RIEN INSCRIRE AU DESSUS DE CETTE LIGNE

---

**ANNEXE 2 (A rendre avec la copie)**

**2.1 QCM**

- L'indice de remplissage se calcule à partir d'un lot de :

- 15 huîtres       - 20 huîtres       - 30 huîtres

- L'indice de remplissage nécessite des huîtres :

- de calibres mélangés       - de calibre 2       - de même calibre

- L'indice de remplissage se calcule à l'aide du rapport :

- (masse totale / masse de chair) x 100       - (masse de chair / masse totale) x 100

**2.2 Tableau à compléter**

Valeurs limites de l'indice de remplissage	Appellations des huîtres

NUMERO DE PLACE :

NE RIEN INSCRIRE AU DESSUS DE CETTE LIGNE

---




**ANNEXE 3 (A rendre avec la copie)**

<b>ACTIONS</b>	<b>DESCRIPTION</b>	<b>INTERET</b>
<b>Retourner ou virer des poches</b>		
<b>Dédoubler des poches</b>		
<b>Echauder ou ébouillanter des huîtres</b>		
<b>Cribler</b>		

NUMERO DE PLACE :

NE RIEN INSCRIRE AU DESSUS DE CETTE LIGNE

**ANNEXE 4 (A rendre avec la copie)**

<b>MATERIEL</b>			
<b>NOM</b>	<b>Filet de.....</b>	.....	.....
<b>RÔLE</b>			